

Klassenarbeit Mathematik 5 Zahlenraum bis 1 000 000

Ich gebe mein Bestes!



Viel
Erfolg!

1. Löse die Aufgaben!

6

a) Suche die Nachbarhunderter!

_____ 6593 _____

_____ 7412 _____

_____ 40158 _____

b) Suche die Nachbartausender!

_____ 4740 _____

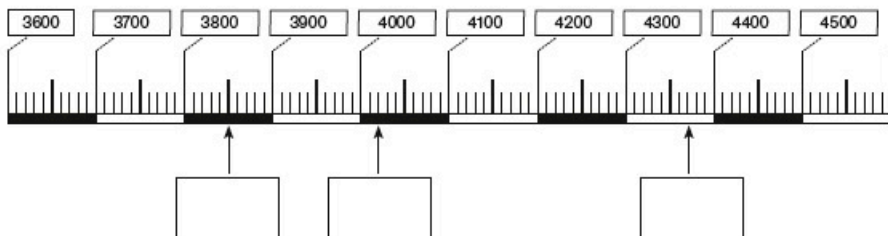
_____ 7625 _____

_____ 69167 _____

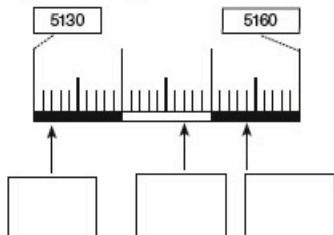
2. Löse die Aufgaben am Zahlenstrahl!

3

a) Schreibe die richtigen Zahlen unter die Pfeile



b) Wohin zeigen die Pfeile?



Klassenarbeit Mathematik 4

Zahlenraum bis 1000 000

6. Paul:

9 Gummibärchen = 3 Müsliriegel

4 Trinkpäckchen = 14 Müsliriegel

Zusammen 17 Müsliriegel

Marlene:

4 Salamis = 12 Müsliriegel

5 Bilder = 35 Müsliriegel

Zusammen 47 Müsliriegel

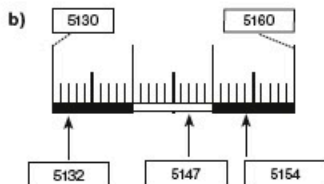
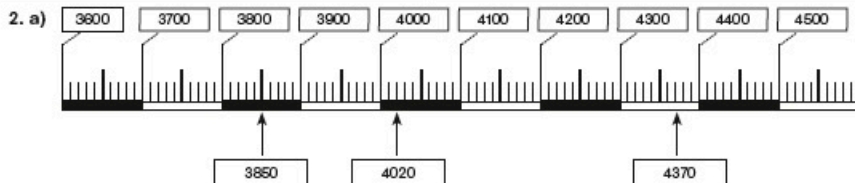
Marlene gewinnt die Tauschaktion.

Klassenarbeit Mathematik 5

Zahlenraum bis 1000 000

1. a) 6500 6593 6600
 7400 7412 7500
 40000 40158 41000

b) 4000 4740 5000
 7000 7625 8000
 69000 69167 70000



3. 6831, 6381, 6183, 6138
 9521, 9512, 9251, 9215, 9152

4. 4135 126
 1090 6409

5. $7189 + 390 = 7579$
 $2275 - 233 = 2042$

6. 10730 10430 10130 9830
 49060 49030 49000 48970 48940

7. a) $729 \cdot 6 = 4374$ b) $8 \cdot 483 = 3864$
 $700 \cdot 6 = 4200$ $400 \cdot 8 = 3200$
 $20 \cdot 6 = 120$ $80 \cdot 8 = 640$
 $9 \cdot 6 = 54$ $3 \cdot 8 = 24$

8. a) 8312 b) 7691
 $\underline{-3914}$ $\underline{-5917}$
 4398 1774

9. $1978 - 1643 = 335$
 $335 \cdot 4 = 1340$
 Meine Zahl heißt 1340.

10. $680 \cdot 6 = 4080$
 $1350 + 4080 = 5430$
 Antwort: In sechs Jahren hat sie 5430 € zusammengespart.

11. Frage: Wie viel hat Frau Weier angezahlt?
 Rechnung: $14520 + 3075 = 17595$
 $17595 - 11045 = 6550$
 Antwort: Sie hat 6550 € angezahlt.

12. Frage: Wie hoch ist ihr Lottogewinn?
 Rechnung: $593174 - 25193 = 567981$
 Antwort: Sie hat 567981 € im Lotto gewonnen.